


SILICIO SLĖNIO ŽINOVAS


VARDENIS, PAVARDENIS, MOKYKLA, KLASĖ



1. KOKS PAROS LAIKAS IR KIEK VALANDŲ SILICIO SLĖNYJE, JEI LIETUVOJE YRA 9 VALANDA RYTO?

KALIFORNIJA
yra Ramiojo vandenyno laiko juostoje (UTC-08:00)

???

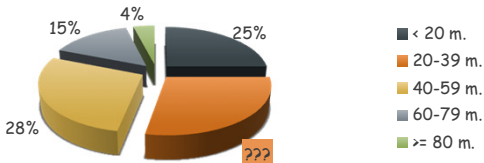


LIETUVA
yra Rytų Europos laiko juostoje (UTC+02:00)

?

2. KIEK PROCENTŲ GYVENTOJŲ YRA PRISKIRIAMA 40-59 M. AMŽIAUS GRUPEI?

Silicio slėnio gyventojai, pagal pagrindines amžiaus grupes



Amžiaus grupė	Procentai
< 20 m.	25%
20-39 m.	28%
40-59 m.	15%
60-79 m.	4%
>= 80 m.	2%

?

3. KOKIOS SILICIO SLĖNIO IT ĮMONĖS PAVADINIMAS SIEJAMAS SU ŠIUO SKAIČIUMI?

10^{100} → vienetas su šimtu nulių

?

UŽUOMINOS:

- UTC ± 00:00 juosta eina per Karališkąją Grinvičo observatoriją Londone. Jei Lietuvoje yra UTC+02:00, tai reiškia, kad prie Londono laiko reikia pridėti 2 val. ir gausime Lietuvos laiką, Jeigu UTC yra su minusu, laiką reikia atimti iš Londono laiko.
- skritulinėje diagramoje pavaizduotų elementų suma sudaro 100 proc.
- Šis skaičius yra GOOGOL (gugolas).